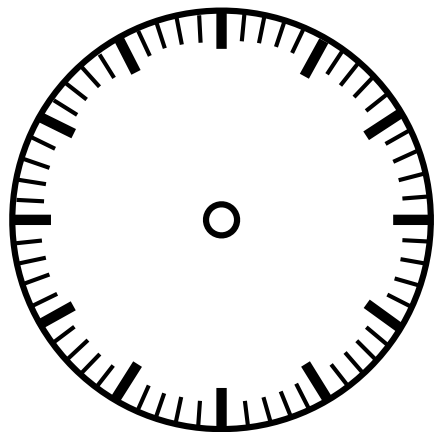




何時何分か書いてみましょう。



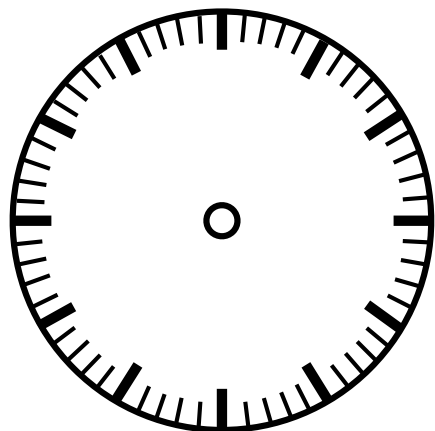
① ( ) 時 ( ) 分




② ( ) 時 ( ) 分




③ ( ) 時 ( ) 分



④ ( ) 時 ( ) 分



⑤ ( ) 時 ( ) 分



⑥ ( ) 時 ( ) 分

折り線

【時計課題】 時計を読む（文字盤なし版） カスタマイズ6問

じ しん ぶんしん  
時針（短針）・分針（長針）を事前に描いておきます。

\* 12分で時針が1進みます