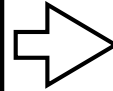




①以下の2つの商品を買います。合わせていくらになりますか？

かもの
買う物

+




えん
円

【子供向け】
難しい版：お金の計算
買い物の実践練習プリント
1円玉～100円玉 - その1

【①の答え】
：99円

②財布の中から、お金を1つだけ使って支払いをしましょう。


さいふ
なか
財布の中



つか
かね
使うお金に
まる
○をつけましょう


折
り
線

【②の答え：100円】



③財布の中から、10円のお釣りになるように支払いをしましょう。

さいふ
なか
財布の中



つか
かね
使うお金に
まる
○をつけましょう

しょうじかん
所要時間

ふん	びょう
分	秒

せいかいすう
正解数

/3

【③の答え：109円】

