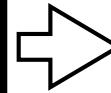




①以下の2つの商品を買います。合わせていくらになりますか？

かもの
買う物


+



えん
円

②財布の中から、お金を1つだけ使って支払いをしましょう。


さいふ
なか
財布の中



つか
かね
使うお金に
まる
○をつけましょう

③財布の中から、__円のお釣りになるように支払いをしましょう。

さいふ
なか
財布の中



つか
かね
使うお金に
まる
○をつけましょう

しょうじかん
所要時間

ふん	びょう
分	秒

せいかいすう
正解数

/3

【子供向け】
難しい版：お金の計算
買い物の実践練習プリント
1円玉～100円玉 - その1
カスタマイズ用

【①】
事前に商品の値段を
記載してください。
合計の値段は100円玉
や50円玉で買える金額
に設定してください。

折
り
線
【②】
100円玉や50円玉が
答えになるように①の
問題を設定しておきま
す。

【③】
事前にお釣りの金額を
記載してください。
10円や5円などが答え
になるように①の問題
を設定しておきます。