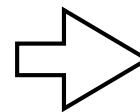


なんえん かね かぞ  
何円になるか、お金を数えましょう。

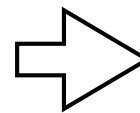



①



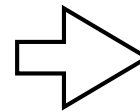

えん  
円

②



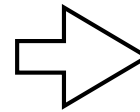


えん  
円

③



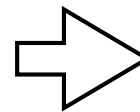


えん  
円

④




えん  
円

⑤




えん  
円

しょうじかん  
所要時間

ふん びょう  
分 秒

せいかいすう  
正解数

/5

折り線

【子供向け】 簡単版：お金の計算 - お金を数える練習プリント：1円玉・5円玉 整列編 - その3

答え：①6円 ②18円 ③25円 ④11円 ⑤30円