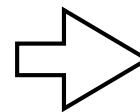


なんえん かね かぞ  
何円になるか、お金を数えましょう。

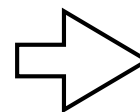



①



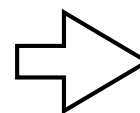
えん  
円

②



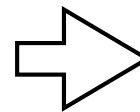
えん  
円

③



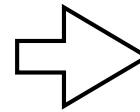

えん  
円

④



えん  
円

⑤



えん  
円

しょうじかん  
所要時間

ぶん びょう  
分 秒

せいかいすう  
正解数

/5

折り線

【子供向け】 簡単版：お金の計算 - お金を数える練習プリント：1円玉・5円玉 ランダム配置編 - その3

答え：①7円 ②15円 ③32円 ④21円 ⑤25円