

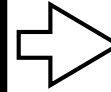


①以下の2つの商品を買います。合わせていくらになりますか？

かもの  
買う物




+



えん  
円

②財布の中から、お金を1つだけ使って支払いをしましょう。


さいふ  
の中



つか  
か  
ね  
使う  
お  
金  
に  
まる  
○  
を  
つ  
け  
ま  
し  
よ  
う

③財布の中から、\_\_\_円のお釣りになるように支払いをしましょう。

さいふ  
の中



つか  
か  
ね  
使う  
お  
金  
に  
まる  
○  
を  
つ  
け  
ま  
し  
よ  
う

しょうじかん  
所要時間

|    |     |
|----|-----|
| ふん | びょう |
| 分  | 秒   |

せいかいすう  
正解数

|    |
|----|
| /3 |
|----|

【子供向け】  
難しい版：お金の計算  
買い物の実践練習プリント  
1円玉～500円玉 - その1  
カスタマイズ用

【①】  
事前に商品の値段を  
記載してください。  
合計の値段は500円玉  
で買える金額に設定し  
てください。

折  
り  
線  
【②】  
500円玉が答えになる  
ように①の問題を設定  
しておきます。

【③】  
事前にお釣りの金額を  
記載してください。  
100円や50円、10円、  
5円などが答えになる  
ように①の問題を設定  
しておきます。