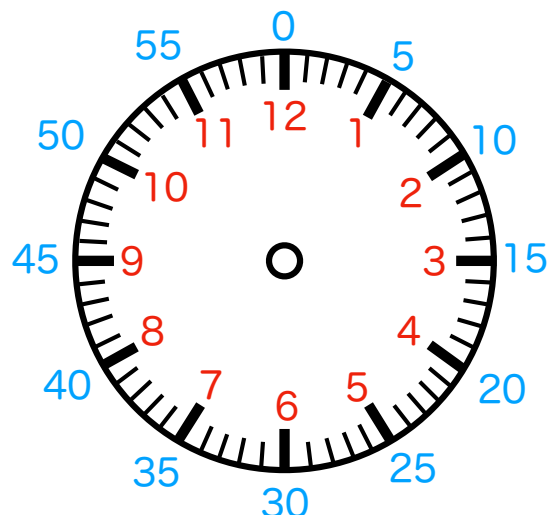
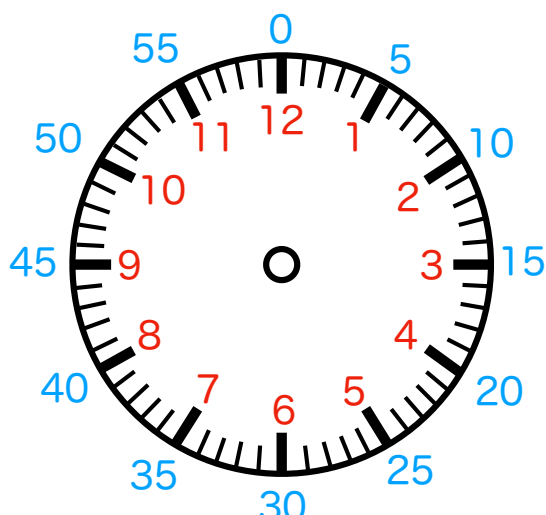


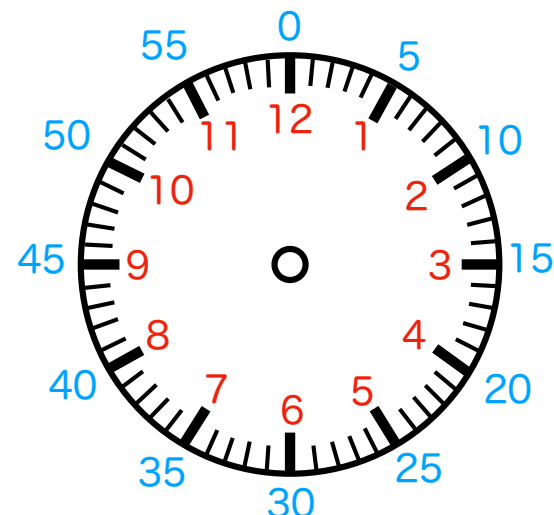
何時何分か書いてみましょう。



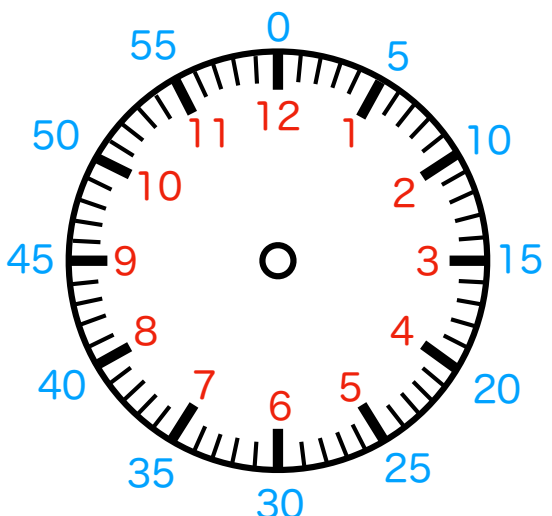
① ( ) 時 ( ) 分



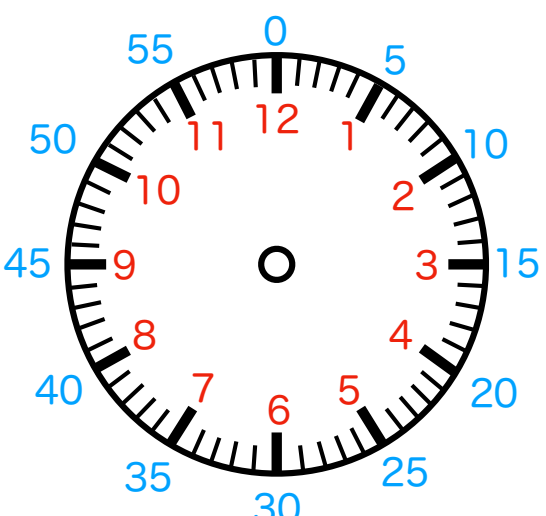
② ( ) 時 ( ) 分



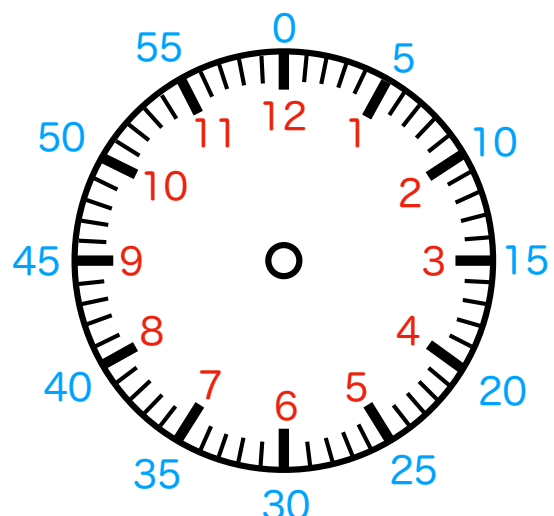
③ ( ) 時 ( ) 分



④ ( ) 時 ( ) 分



⑤ ( ) 時 ( ) 分



⑥ ( ) 時 ( ) 分

折り線

【時計課題】 時計を読む 色分け版 (分針5分刻み補助あり) カスタマイズ6問

【実施例】

じしん 時針 (短針) ・ ふんしん 分針 (長針) を事前に描いておきます。

時計の読みの理解が苦手な場合には

\* 12分で時針が1進みます

「何時のところは赤色の数字、何分のところは青色の数字。」

と適宜ヒントを与えます。