




なんじ なんぶん か  
何時何分か書いてみましょう。




① ( ) 時 ( ) 分




② ( ) 時 ( ) 分




③ ( ) 時 ( ) 分



④ ( ) 時 ( ) 分



⑤ ( ) 時 ( ) 分



⑥ ( ) 時 ( ) 分

折り線

【時計課題】 時計を読む（文字盤なし版） その1

答え ①1時0分 ②3時0分 ③6時0分 ④8時0分 ⑤9時0分 ⑥11時0分