




なんじ なんぶん か  
何時何分か書いてみましょう。




① ( ) 時 ( ) 分




② ( ) 時 ( ) 分




③ ( ) 時 ( ) 分



④ ( ) 時 ( ) 分



⑤ ( ) 時 ( ) 分



⑥ ( ) 時 ( ) 分

折り線

【時計課題】 時計を読む（文字盤なし版） その2

答え ①2時0分 ②2時15分 ③2時30分 ④9時0分 ⑤9時20分 ⑥9時45分