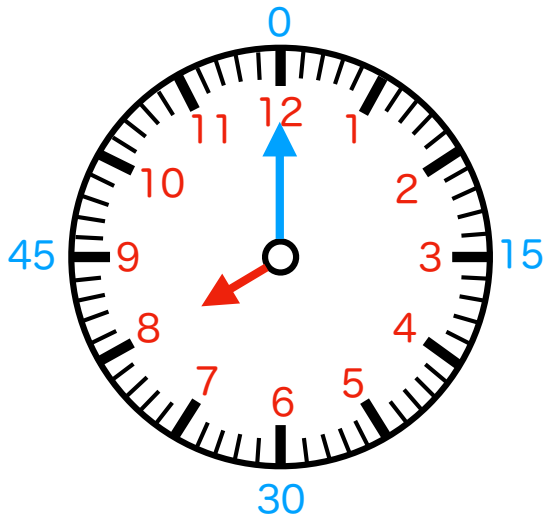
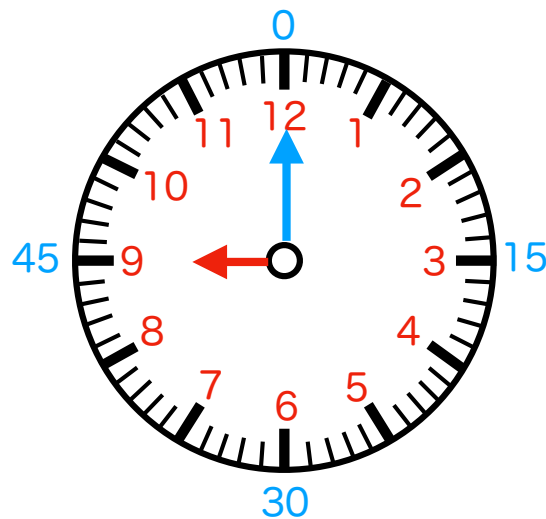


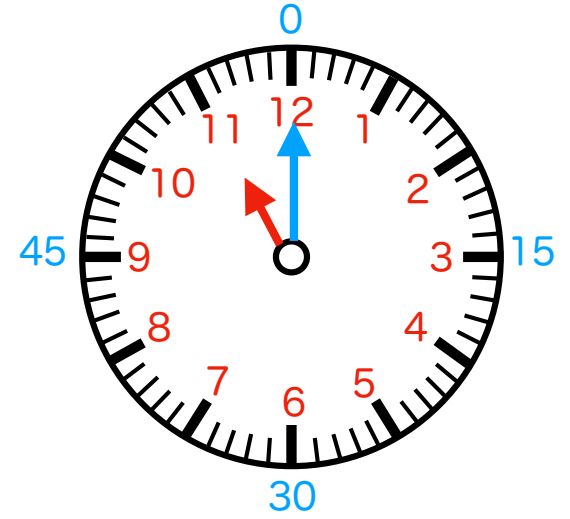
何時何分か書いてみましょう。



① ( ) 時 ( ) 分



② ( ) 時 ( ) 分



③ ( ) 時 ( ) 分



折り線

【時計課題】 時計を読む：色分け版（分針15分刻み補助あり）3問 その2

時針（短針）・分針（長針）の理解がしにくい子向け

答え ①8時0分 ②9時0分 ③11時0分

【実施例】

時計の読みの理解が苦手な場合には

「何時のところは赤色の針と数字、何分のところが青色の針と数字。」

と適宜ヒントを与えます。