





なんじ なんぶん か  
何時何分か書いてみましょう。




① ( ) 時 ( ) 分




② ( ) 時 ( ) 分




③ ( ) 時 ( ) 分



④ ( ) 時 ( ) 分



⑤ ( ) 時 ( ) 分



⑥ ( ) 時 ( ) 分

折り線

【時計課題】 時計を読む（文字盤なし版） その3

答え ①4時0分 ②4時10分 ③4時45分 ④10時0分 ⑤10時15分 ⑥10時40分