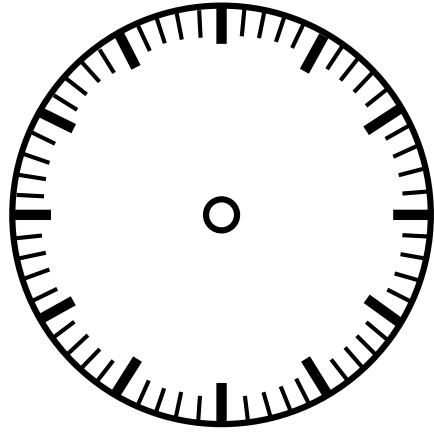




なんじ なんぶん か
何時何分か書いてみましょう。



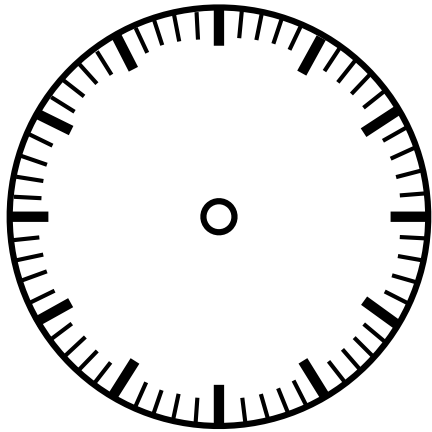
① () 時 () 分




② () 時 () 分



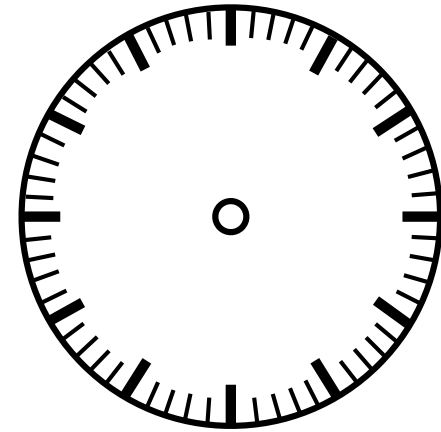
③ () 時 () 分



④ () 時 () 分



⑤ () 時 () 分



⑥ () 時 () 分

折り線

【時計課題】 時計を読む（文字盤なし版） カスタマイズ6問

じしん ふんしん
時針（短針）・分針（長針）を事前に描いておきます。

* 12分で時針が1進みます