
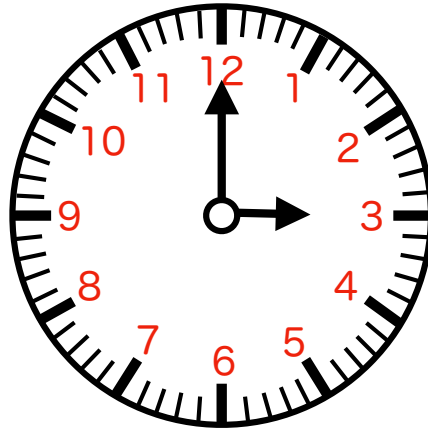


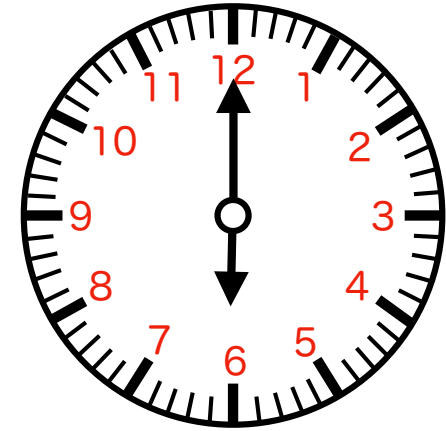
なんじ なんぶん か
何時何分か書いてみましょう。



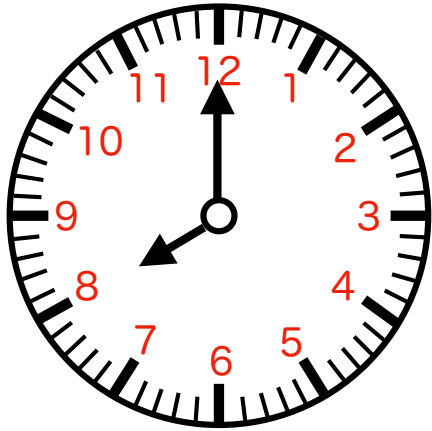
① () 時 () 分



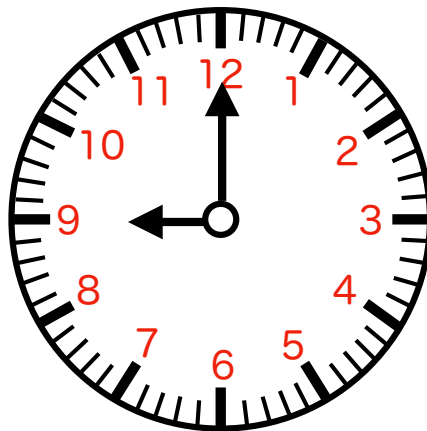
② () 時 () 分




③ () 時 () 分



④ () 時 () 分



⑤ () 時 () 分



⑥ () 時 () 分

折り線

【時計課題】 時計を読む (通常版) その1

答え ①1時0分 ②3時0分 ③6時0分 ④8時0分 ⑤9時0分 ⑥11時0分