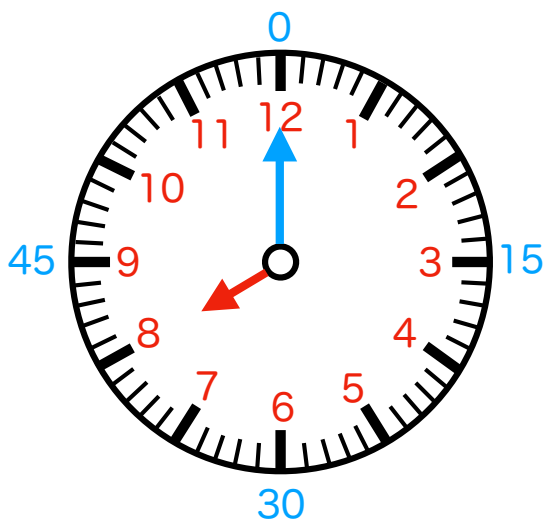
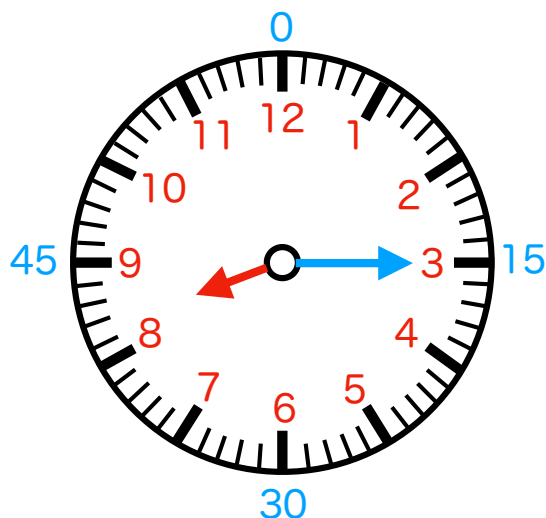


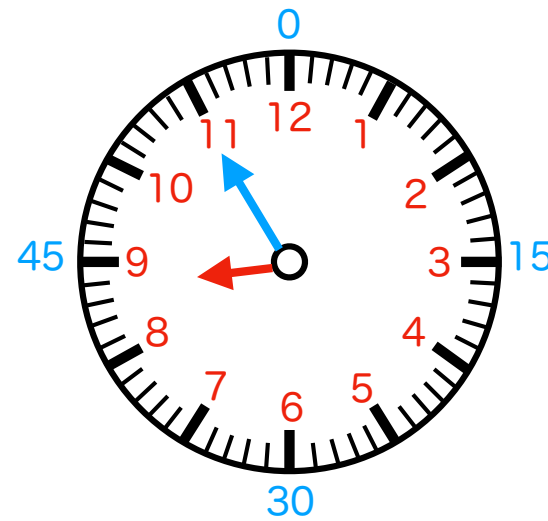
何時何分か書いてみましょう。



① () 時 () 分



② () 時 () 分



③ () 時 () 分



折り線

【時計課題】 時計を読む：色分け版（分針15分刻み補助あり）3問 その3

時針（短針）・分針（長針）の理解がしにくい子向け

答え ①8時0分 ②8時15分 ③8時55分

【実施例】

時計の読みの理解が苦手な場合には

「何時のところは赤色の針と数字、何分のところが青色の針と数字。」

と適宜ヒントを与えます。