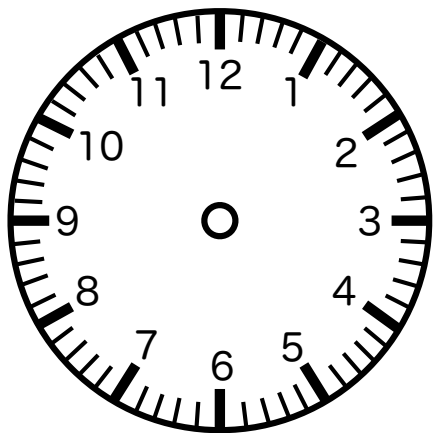
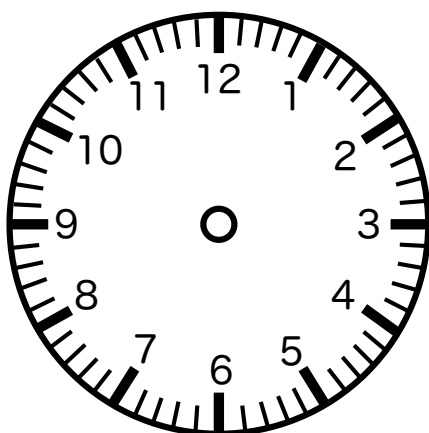




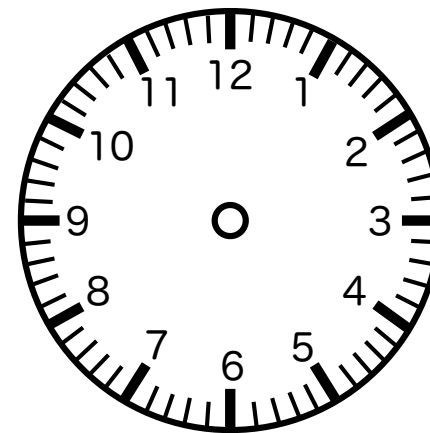
以下の時計に、指定された時間の針を記入してください。



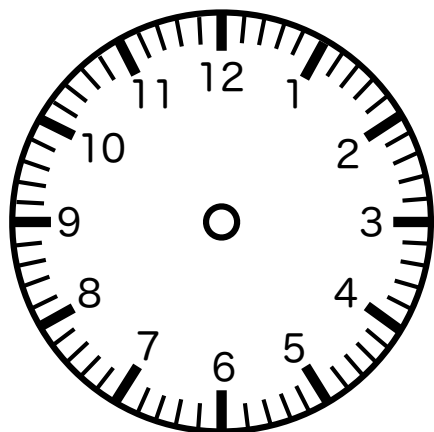
___時___分



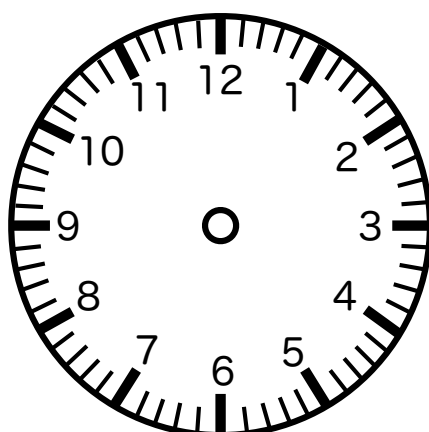
___時___分



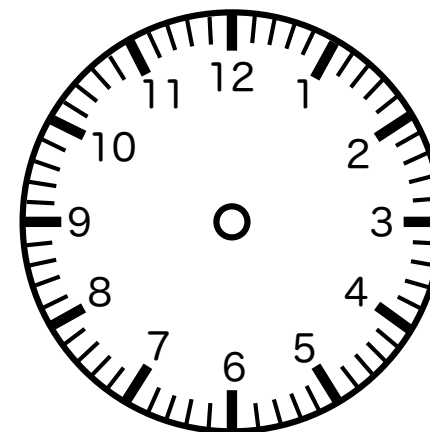
___時___分



___時___分



___時___分



___時___分

折り線

非言語的機能-認知 時計課題：時計に針を書き入れる 自由記入版

事前に、支援者が時間を記入しておきます。時針（短針）・分針（長針）を書き込んでもらいます。

時針（短針）は、12分で5目盛中、1目盛進みます。