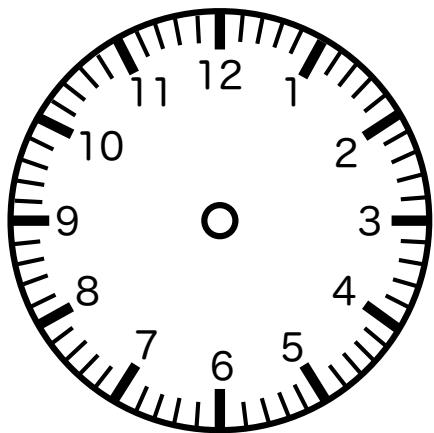
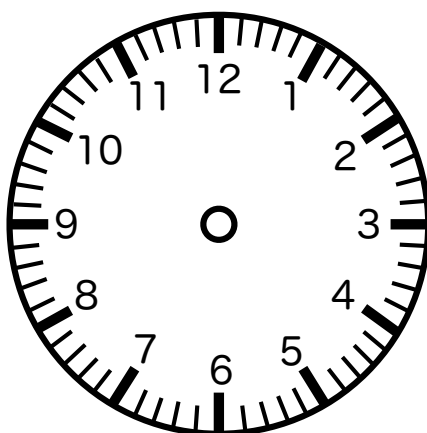




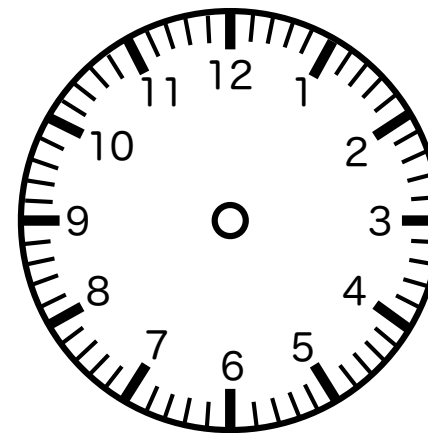
以下の時計に、指定された時間の針を記入してください。



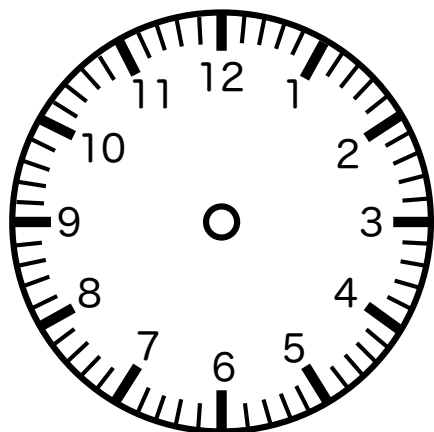
① 1時00分



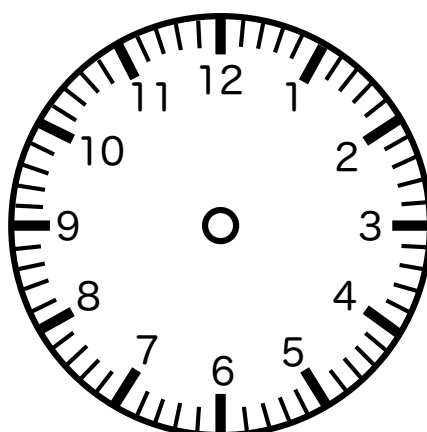
② 3時00分



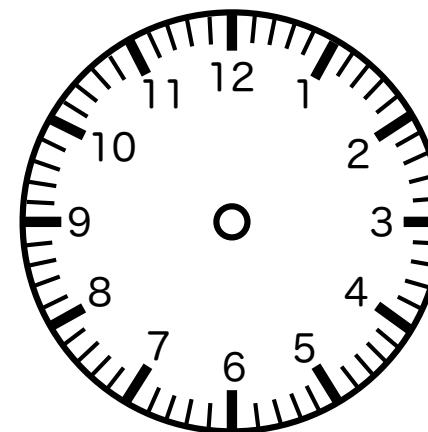
③ 4時00分



④ 6時00分



⑤ 8時00分



⑥ 11時00分

折り線

非言語的機能-認知 時計課題：時計に針を書き入れる 通常版 その1

時針（短針）・分針（長針）を書き込んでもらいます。矢印（→）の長短で時針（短針）・分針（長針）を区別するなどします。

時針（短針）は、12分で5目盛中、1目盛進みます。