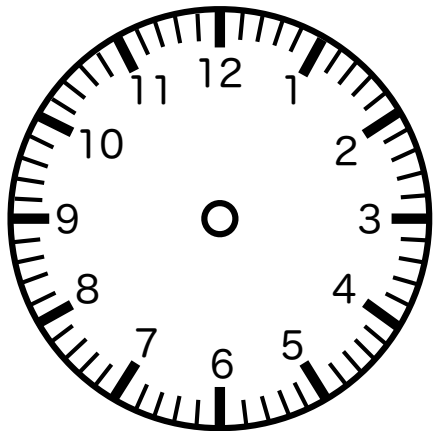
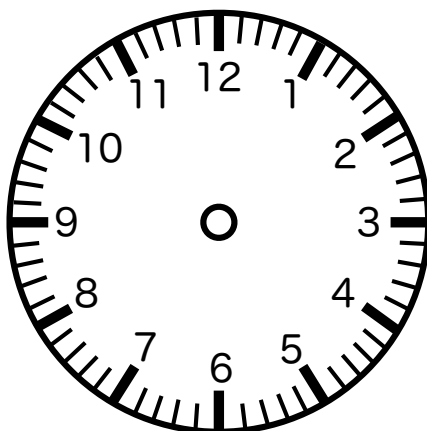




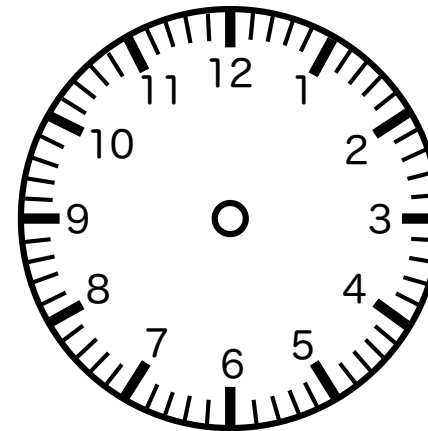
以下の時計の時刻を（ ）内に記入してください。



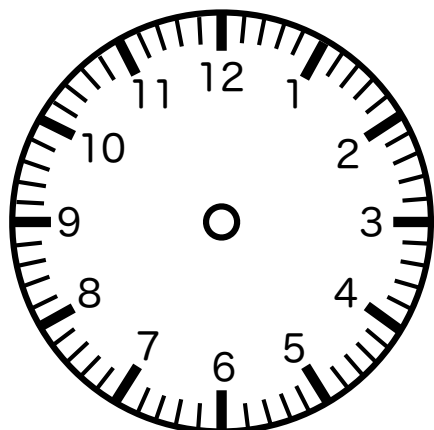
() 時 () 分



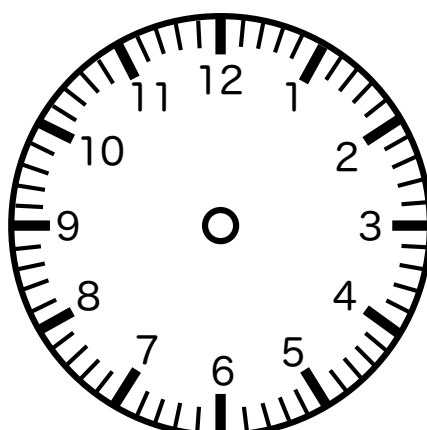
() 時 () 分



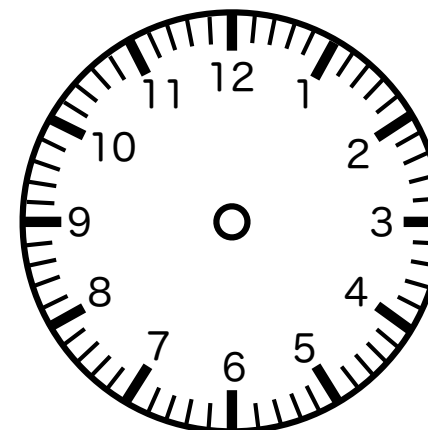
() 時 () 分



() 時 () 分



() 時 () 分



() 時 () 分

折り線

非言語的機能-認知 時計課題：時計を読む 自由記入版

時針 (短針) ・分針 (長針) は、支援者が事前に記入しておきます。

時針 (短針) は、12分で5目盛中、1目盛進みます。