






以下の時計の時刻を（ ）内に記入してください。




① ( ) 時 ( ) 分




② ( ) 時 ( ) 分




③ ( ) 時 ( ) 分



④ ( ) 時 ( ) 分



⑤ ( ) 時 ( ) 分



⑥ ( ) 時 ( ) 分

折り線

非言語的機能-認知 時計課題：時計を読む 通常版 その2

答え ①2時 ②4時 ③5時 ④7時 ⑤10時 ⑥12時